



Q1

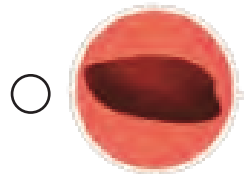
南島語族有厲害的航海技術，可以乘船遷移到其他島嶼。請從「旅行地圖」中勾選出他們和當地人交流什麼？(複選)



稻米



構樹




番薯



語言

Q2

太平洋島民在航海時用的枝梗航海圖，椰子葉梗紀錄 _____，貝殼標記 _____，以做為航行的指引。



Q3

為什麼展廳中臺東卡大地布部落會有中國明代瓷器酒甕？請勾選。(單選)



- 購買。
- 荷蘭人用甕裝酒，送給族人的。
- 卑南族人和荷蘭人交易取得。


南島廳

4-6年級

學習單



請將展場中的南島賣店有棕櫚油成分的商品圈起來。



跨國企業的棕櫚油種植造成當地什麼問題？請勾選。（複選）

土地過度開發 超時工作 霧霾空氣汙染 低價勞工



請寫下展廳中你喜歡的流行歌曲、臺灣原住民歌手或運動員？為什麼？



展廳中這面牆中的樹皮布代表樹皮布文化的延續和散布，是南島族群 _____、_____ 的例證。



枝梗航海圖是航行的指引，引領南島族群航向廣闊的未來。凱道彩繪石頭意指石頭是土地的一部分，透過匯集彩繪石頭，看見 _____、_____ 的串連。

（請填空白處）